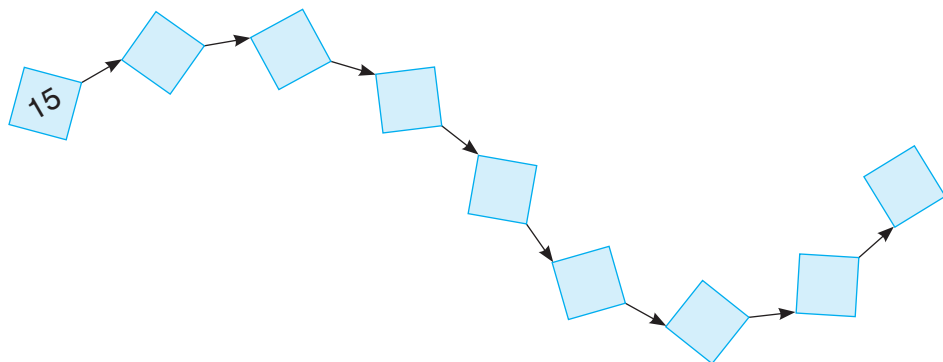


NA DOBRY START – ZADANIA WPROWADZAJĄCE

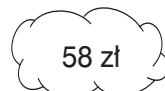
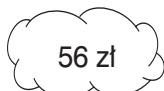
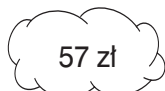
Porównywanie liczb

karta pracy 8

- 1** Do każdego kolejnego kwadratu wpisz liczbę o 12 większą od poprzedniej.



- 2** Gra komputerowa w zwykłym sklepie kosztowała 73 zł, a w sklepie internetowym była o 16 zł tańsza. Ile kosztowała ta gra w sklepie internetowym? Pokoloruj odpowiednią chmurkę.



- 3** W zestawie klocków lego było 64 klocków żółtych i 8 razy mniej klocków czerwonych. Ile było klocków czerwonych w tym zestawie?

- 4** W restauracji pani Ela zapłaciła za obiad 61 zł. W cukierni kupiła na deser lody i ciastka za 34 zł. O ile droższy był obiad od deseru? Zaznacz poprawną odpowiedź.

A. O 34 zł.

B. O 27 zł.

C. O 61 zł.

D. O 95 zł.

- 5** Do dekoracji klasy uczniowie użyli 54 śnieżynek i 6 razy mniej bałwanków. Iloma bałwankami dzieci udekorowały klasę?






- 6** Za album o Warszawie pani Joasia zapłaciła 92 zł, album o Mazurach kosztował ją 64 zł. O ile tańszy był album o Mazurach?

- 7** W okresie promocji lampa kosztowała 69 zł. Następnie jej cena wzrosła o 23 zł. Ile kosztowała ta lampa po okresie promocji?

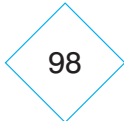
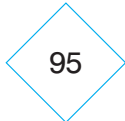

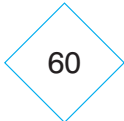
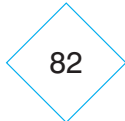
Podkreśl właściwą cenę.

- A. 82 zł B. 93 zł C. 92 zł D. 46 zł






- 8** Pod każdą liczbą zapisz w kółku liczbę 2 razy mniejszą.

100	60	18	40	82
				

- 9** Połącz liczbę zapisaną w prostokącie z liczbą o 27 większą.

33	71	55	68	47
				
98	95	74	60	82

- 10** Nad każdą liczbą zapisz liczbę 6 razy większą.

				
70	81	22	46	9

- 11** W ogrodzie pani Basi rosną bratki: 8 żółtych i 32 niebieskie. Ile razy więcej jest bratków niebieskich niż żółtych?

- 12** Pan Jacek zrobił 9 zdjęć z widokami obiektów przyrodniczych oraz 8 razy więcej zdjęć, na których były osoby z jego rodziny.
- a) Ile pan Jacek wykonał zdjęć, na których były osoby z jego rodziny?
b) Ile wszystkich zdjęć razem wykonał pan Jacek?