

1. Na podstawie ilustracji napisz jak możemy przechowywać warzywa na zimę.




KECZUP

PAPRYKA KONSERWOWA

PRZECIER POMIDOROWY

BURACZKI W OCCIE





EKOSYSTEMY LĄDOWE – OGRÓD PRZETWORY WARZYWNE

Nazwij przetwory warzywne przedstawione na kartach 38 i 39. Przeczytaj i wytnij etykiety oraz naklej je w odpowiednich miejscach. Pomogą ci w tym kolory.



OGÓRKI KISZONE

KISZONA KAPUSTA

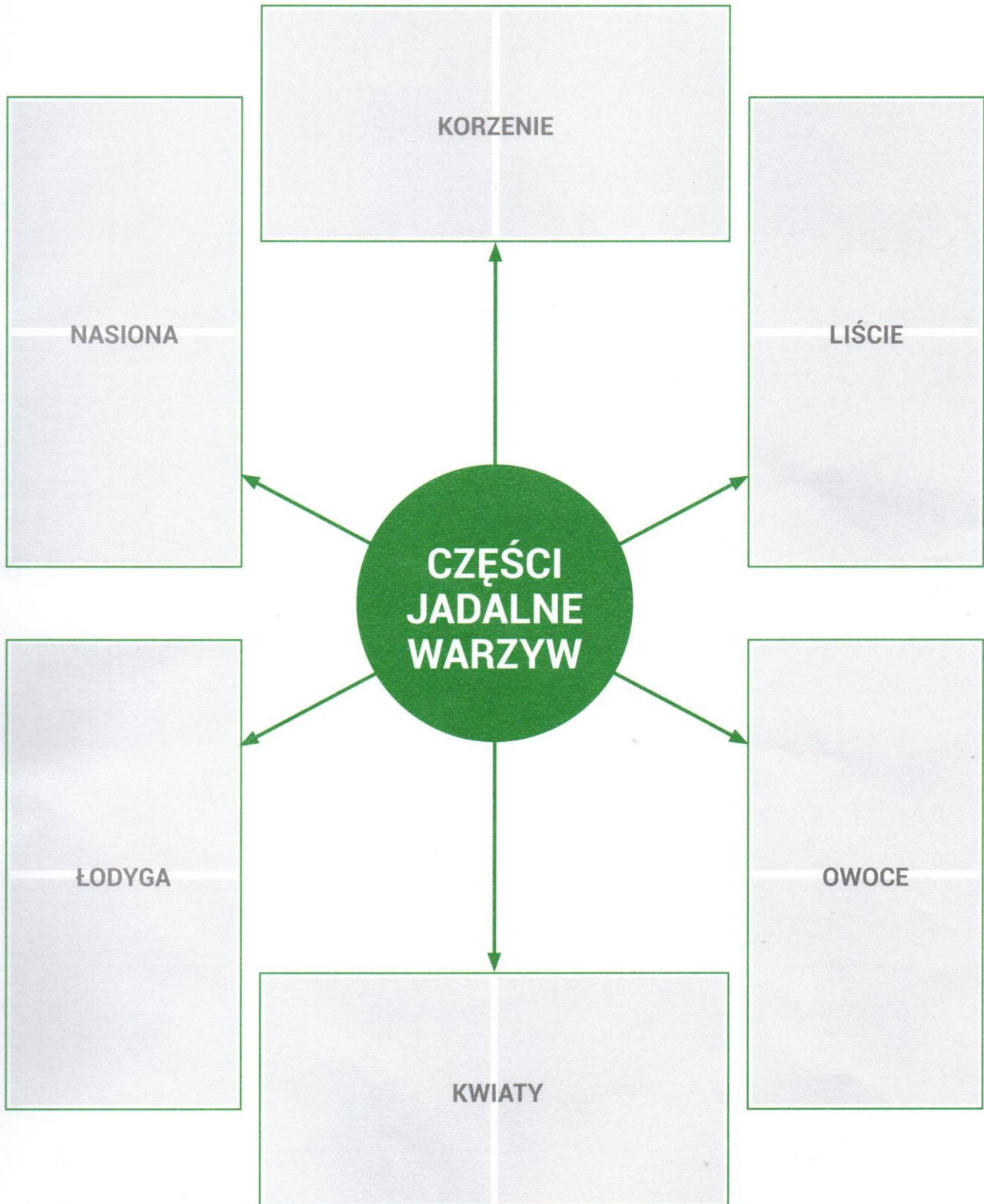
OGÓRKI KONSERWOWE


PIKLE



CZĘŚCI JADALNE WARZYW

Wytnij zdjęcia z następnnej karty. Przyklej je w odpowiednich miejscach.





O ile większe są kolejne liczby? Dopisz pięć następnych.



32 34 36



Przedstaw dodawanie w postaci mnożenia i oblicz.

$$2 + 2 + 2 + 2 = 4 \cdot 2 = \square$$

$$3 + 3 + 3 = \square \cdot \square = \square$$

$$5 + 5 = \square \cdot \square = \square$$

$$4 + 4 + 4 + 4 = \square \cdot \square = \square$$

$$5 + 5 + 5 + 5 = \square \cdot \square = \square$$

$$6 + 6 + 6 = \square \cdot \square = \square$$

$$2 + 2 + 2 = \square \cdot \square = \square$$

$$7 + 7 + 7 = \square \cdot \square = \square$$

$$2 + 2 = \square \cdot \square = \square$$

